

## Sachunterricht:

Wiederhole und lerne auswendig:

- Umfahren von Hindernissen
- Anfahren vom Grundstück
- Verkehrsschilder
- Vorfahrtsregelung



Bearbeite die Arbeitsblätter zum Thema Verkehrserziehung!

Übe mit der **Anton-App** ([www.anton.app](http://www.anton.app)) die Verkehrsschilder (3. Klasse - Sachunterricht - Verkehrserziehung)

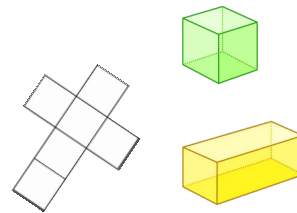
## Mathe:

Arbeitsblätter zur halbschriftlichen Division und zu Würfelnetzen bearbeiten

Arbeitsheft: S. 41

Rechenbuch:

- Klasse 3b: S. 66, 67
- S. 75, S. 78, S. 79



Rechentruainer: S. 45

Übe mit der **Anton-App** ([www.anton.app](http://www.anton.app)) die halbschriftliche Division (3. Klasse - Mathe - halbschriftliche Division und halbschriftliche Division mit Rest) und Körpernetze.

## Deutsch:

Piri-Buch

Lesen: S. 107 - 113, S. 115 (Übe das laute Vorlesen!)

Rechtschreibung:

- S. 147
- S. 148, 149
- S. 150, S. 151



rotes Piri-Heft: S. 44  
S. 45  
S. 53

Lesen, lautes Vorlesen, das Einmaleins sowie das Einsdurcheins sollen zudem regelmäßig geübt werden.







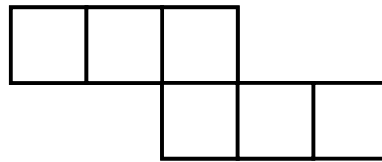
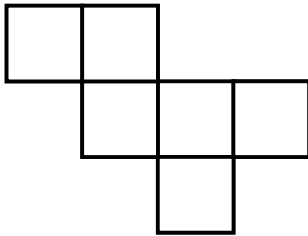
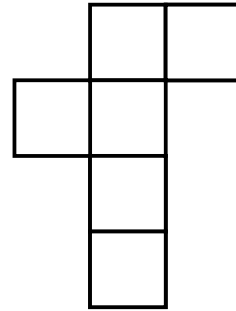

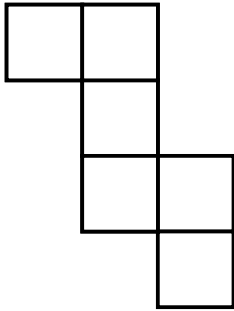
Name:

## Würfelnetz

3

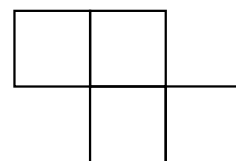
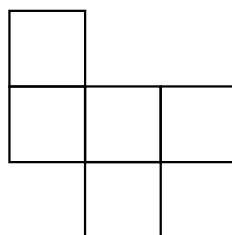
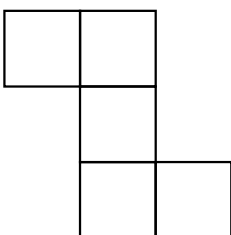
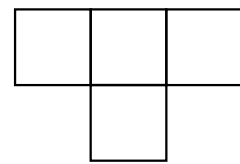
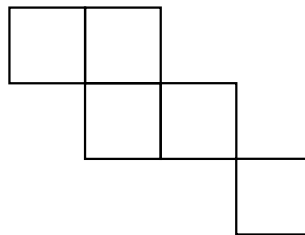

Schreibe in die Quadrate wo sich die Seitenflächen beim Zuklappen befinden (oben,unten,rechts,links, hinten,vorne).

Male die gegenüberliegenden Seiten in derselben Farbe aus.




4

Hier sind Teile der Würfelnetze verloren gegangen. Zeichne die fehlenden Bauteile zu dem Würfelnetz dazu.



5

Zeichne hier dein Lieblingswürfelnetz und gib ihm einen Namen.

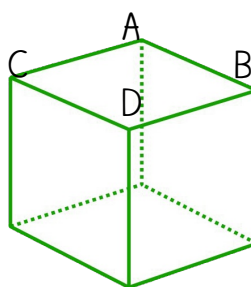
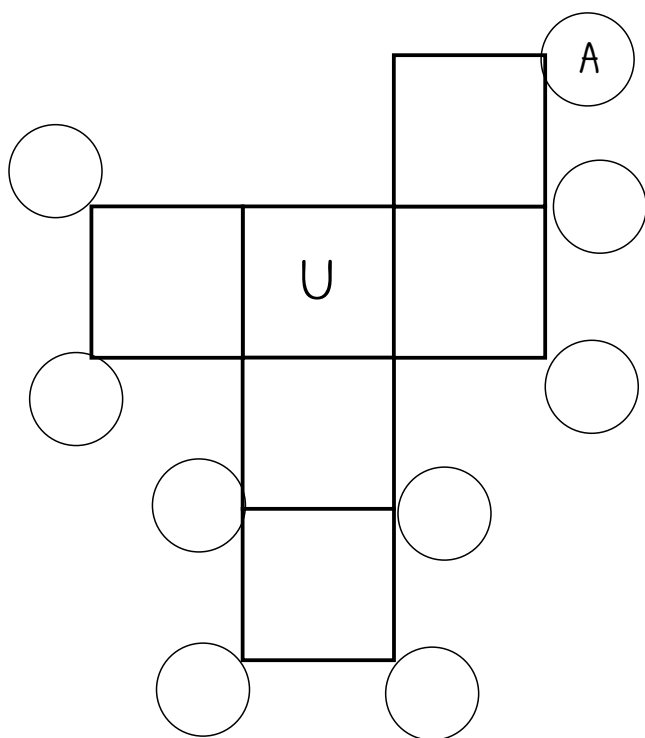


Name:



6

In diesem Netz ist das mit u markierte Quadrat die Grundfläche des Würfels. Welche Ecken im Netz gehören zu den Ecken A, B, C, D des Würfels?



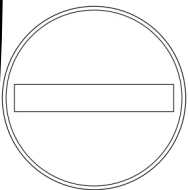
# Wiederholung Verkehrserziehung



1 Beschrifte das verkehrssichere Fahrrad.




2 Male die Verkehrszeichen in den richtigen Farben an und ordne sie den richtigen Bedeutungen zu.



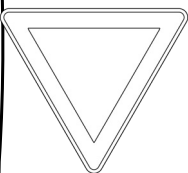
Verbot für Radfahrer



Vorfahrt gewähren



getrennter Rad- und Fußweg



Durchfahrt verboten



Vorfahrt an der nächsten Kreuzung

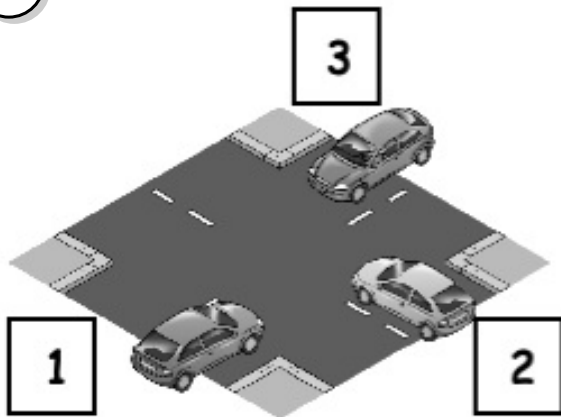
## Wiederholung Verkehrserziehung



3 Was besagt die Regel „rechts vor links“? Kreuze die richtige Antwort an.

- Der rechte Autofahrer darf **immer** fahren
- Ich darf fahren, wenn von mir aus gesehen niemand von rechts kommt.

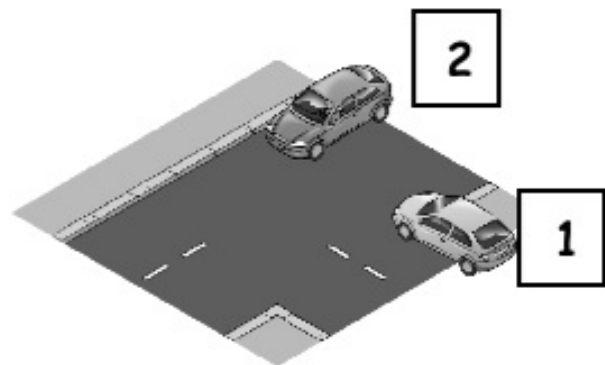
4 Welches Auto hat hier Vorfahrt?



1

2

3



2

1

Nummer: \_\_\_\_\_

Nummer: \_\_\_\_\_

5 Wie verlässt du mit dem Fahrrad das Grundstück richtig? Bringe die Sätze in die richtige Reihenfolge. Schreibe die Nummern 1-6 in die Kästchen.

- Handzeichen links geben
- rechts vom Rad stehen
- Fahrrad in Fahrtrichtung auf die rechte Fahrbahn stellen
- Nach links umsehen
- Fahrrad bis zum Fahrbahnrand schieben
- Mit beiden Händen am Lenker losfahren und die Spur halten



# Wiederholung Verkehrserziehung



6 Welche Ausrüstung ist für dein verkehrssicheres Fahrrad wichtig?  
Finde 10 Wörter und schreibe sie unten auf die Linien.

F	R	O	N	T	S	T	R	A	H	L	E	R	S	I
Y	F	S	P	E	I	C	H	E	N	O	O	C	L	X
Y	H	R	H	Z	A	E	Q	Y	B	R	G	W	H	P
L	B	S	V	M	W	F	Q	R	R	M	W	Q	E	E
X	J	J	R	T	G	D	Y	N	A	M	O	K	L	D
R	Ü	C	K	S	T	R	A	H	L	E	R	K	M	A
S	J	O	M	D	Q	O	H	P	D	C	K	Z	X	L
B	S	A	T	T	E	L	I	P	Z	B	V	D	W	E
O	H	E	L	L	E	K	L	E	I	D	U	N	G	L
R	J	F	R	E	F	L	E	K	T	O	R	M	X	X
Z	H	Z	L	J	H	D	Y	L	M	B	Z	O	Z	J
Q	M	C	B	P	B	B	R	E	M	S	E	S	Y	N

1. _____	6. _____
2. _____	7. _____
3. _____	8. _____
4. _____	9. _____
5. _____	10. _____